


les van



Anne

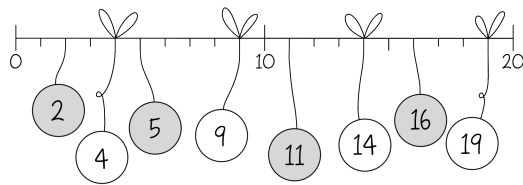
Antwoorden | GROEP 4 | Rekenen



Les 1 GETALLENLIJN T/M 20



10 - 11 - 12 - 13 - 14 - 15 - 16 - 17 - 18 - 19 -
20



0 - 2 - 4 - 6 - 8 - 10 - 12 - 14 - 16 - 18 - 20
0 - 5 - 10 - 15 - 20

Les 2 PLUS OVER DE TIEN

Voorbeeld:

72



13

51

23

77

21

82

34

95

32

91

25

82

23

75

Les 3 MIN OVER DE TIEN

Voorbeeld:

58



7

25

5

36

19

53

18

67

16

78

18

87

12

85

Les 4.1 SEIZOENEN



1 winter - lente - zomer - herfst

2 Zelf controleren



1 winter - lente - zomer - herfst

2 Naar eigen invulling

Les 4.2 DE MAANDEN VAN HET JAAR



- 1 januari - februari - maart
- 2 april - mei - juni
- 3 juli - augustus - september - oktober - november - december



juli: 31
mei: 31
augustus: 31
april: 30
februari: 28 of 29

Les 5.1, deel 1 KALENDERS - DE DATUM AFLEZEN



- 1 naar eigen invulling
- 2 naar eigen invulling
- 3 naar eigen invulling
- 4 naar eigen invulling
- 5 naar eigen invulling



- 1 april
- 2 30 dagen
- 3 dinsdag

Les 5.1, deel 2 KALENDERS - DE DATUM AFLEZEN



- 1 naar eigen invulling
- 2 naar eigen invulling

Les 5.2 REKENEN MET DE KALENDER



- 1 10 september
- 2 24 september



- 1 2 april
- 2 23 april
- 3 30 april



vrijdag 2 mei

Les 6 METEN MET EEN METER



- 1 Langer
- 2 Korter

- 3 Korter
- 4 Naar eigen invulling
- 5 Naar eigen invulling



$$45 + 43 = 88$$

$$86 - 52 = 34$$



- 1 Naar eigen invulling
- 2 Langer
- 3 Korter
- 4 Korter

Les 9 DIGITALE KLOK - HELE UREN



3 uur

8 uur

12 uur

Les 7 TIENEN EN ENEN



11:00

02:00

06:00



- 27
- 52
- 63



Naar eigen invulling



- 76
- 98

Les 10 KLOKKIJKEN - VAN ... TOT ...



3 uur

Les 8 SPRINGEN OP DE LIJN



- 38
- 92
- 56
- 29



1 uur en 30 minuten



2 uur en 30 minuten

Les 11 METEN IN CENTIMETERS



8 cm

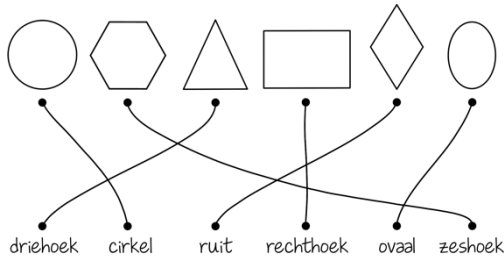
5 cm

10 cm



Zelf controleren

Les 12 VORMEN



zeshoek - vierkant - cirkel – driehoek

Les 13 GELIJKE SPRONGEN VAN 2 EN 3



0 - 2 - 4 - 6 - 8 - 10 - 12 - 14 - 16 - 18 - 20



0 - 3 - 6 - 9 - 12 - 15 - 18 - 21 - 24 - 27 - 30



8 16

9 12

12 14

15 18

21 24

30 10

Les 14 GELIJKE SPRONGEN VAN 4 EN 5



0 - 4 - 8 - 12 - 16 - 20 - 24 - 28 - 32 - 36 - 40



0 - 5 - 10 - 15 - 20 - 25 - 30 - 35 - 40 - 45 - 50



12 45

10 32

20 50

24 35
30 40
28 40

Les 15 PLUS OP DE LIJN



47
65



89

Les 16 MIN OP DE LIJN



46
52



41


Les 17 DE KLOK – KWARTIEREN



kwart over 1

kwart over 3
kwart voor 6
kwart voor 9

kwart voor 7
kwart voor 10
kwart over 11
kwart over 5



Les 18 EURO'S EN CENTEN



5 c 10 c 20 c 50 c



35 cent:	75 cent:	1 euro:
10 cent	20 cent	50 cent
10 cent	20 cent	20 cent
10 cent	20 cent	20 cent
5 cent	10 cent	10 cent
	5 cent	

Les 19 SCHATTEN



40



$20 + 10 \approx 30$

$40 - 20 \approx 20$

$30 + 20 \approx 50$

$70 - 30 \approx 40$

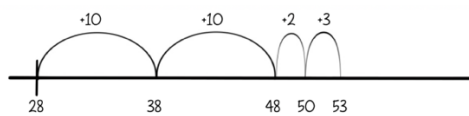
$30 + 10 \approx 40$

$80 - 20 \approx 60$

Les 20 PLUS OVER DE TIEN T/M 100

Voorbeeld:

53



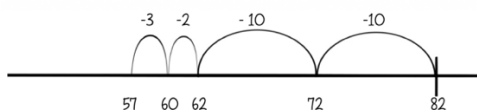
72

92

Les 21 MIN OVER DE TIEN T/M 100

Voorbeeld:

57



48

27

Les 22 DE KLOK - 5 EN 10 OVER/VOOR 'HEEL'



5 over 2

10 voor 8

5 voor 7

10 over 10



Les 23 DE TAFEL VAN 2

Voorbeeld:

2



5 keer 2 kinderen
 $5 \times 2 = 12$

Les 23, deel 2 DE TAFEL VAN 2



2
20
6
4
10



12
8
14
18
16



Naar eigen invulling

Les 24 WISSELGELD



2 euro



7 euro



6 euro

Les 25 DE TAFEL VAN 5



0 - 5 - 10 - 15 - 20 - 25 - 30 - 35 - 40 - 45 - 50



5
25
10
50
15



20
45
40
20
35



55
60

65
70

Les 26 DE TAFEL VAN 10



$3 \times 10 = 30$

7 doosjes van 10 eieren
7 keer 10 eieren
 $7 \times 10 = 70$



20	70
50	60
10	40
30	90
100	80

Les 27 DE TAFEL VAN 3

Voorbeeld:

6



4 keer 3 bolletjes ijs
 $4 \times 3 = 12$

5 groepjes van 3 bolletjes ijs
 5 keer 3 bolletjes ijs
 $5 \times 3 = 15$

Les 27, deel 2 DE TAFEL VAN 3



3
9
6
15
30



12
27
18
21
24



Naar eigen invulling.

Les 28 HOE GROOT IS DE SPRONG?



7
30
40



$67 + 33 = 100$ $45 + 36 = 81$
 $38 + 13 = 51$ $57 + 42 = 99$

Les 29 GETALLENREEKSEN



10
23
31



29
50
47



13
16
16

Les 30 VERHAALSOMMEN M4



- 1 $14 + 17 = 31$
- 2 27 euro
- 3 2 uur en 30 minuten

Les 30, deel 2 VERHAALTJESSOMMEN M4



- 1 $24 - 8 = 16$



- 1 5 bosjes
- 2 300 centimeter
- 3 37 kilometer
- 4 €3

Les 31 DE TAFEL VAN 4

Voorbeeld:

8



4 keer 4 cupcakes
 $4 \times 4 = 16$

5 groepjes van 4 cupcakes
5 keer 4 cupcakes
 $5 \times 4 = 20$

Les 31, deel 2 DE TAFEL VAN 4

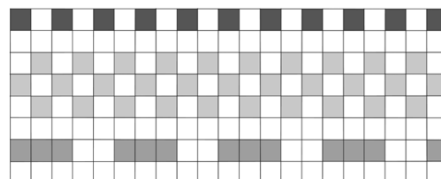


4	36
20	32
12	24
8	16
40	28




Naar eigen invulling.

Les 32 TEGELPATRONEN

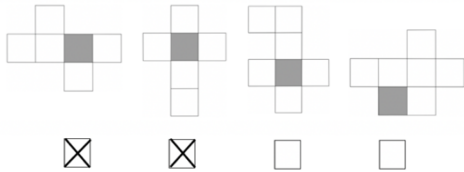




Naar eigen invulling.



Les 33 RUIMTELIJK INZICHT



Les 34 TURVEN



- 1 1
- 2 2
- 3 7
- 4 0



- 1 10

Les 35 DE KLOK - 5 EN 10 OVER/VOOR 'HALF'




5 over half 6

5 voor half 3

10 over half 7

10 voor half 11



Les 36 GETALBEGRIIP T/M 200



90 en 3

80 en 4

70 en 8



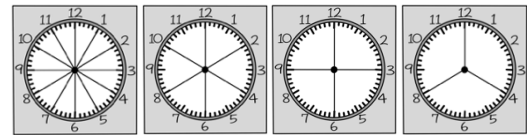

Zelf controleren



98 - 99 - 100 - 101 - 102 - 103 - 104 - 105 -
106 - 107 - 108



132 = 100, 30 en 2 153 = 100, 50 en 3
148 = 100, 40 en 8 139 = 100, 30 en 9



Les 37 GELDBEDRAGEN OPTELLEN




2 croissants	€2
1 krentenbol	€1
2 meergranen	€6
1 speltbrood	€5
TOTAAL	€14

3 stokbroden	€6
2 speltbroden	€10
4 meergranen	€12
1 krentenbol	€1
TOTAAL	€29

Les 38 DE KLOK – MINUTEN



11 voor half 3
3 voor 5
6 over 8
4 over half 10



5 2 4 3 1

Les 40 GRAFIEKEN



1 zaterdag

- 2 donderdag
- 3 20
- 4 35
- 5 maandag en vrijdag

Les 41, deel 1 VERDELEN



Marijke krijgt er 3.

Aziza krijgt er ook 3.



Els krijgt er 4.

Gina krijgt er ook 4.

Robbie krijgt er ook 4.

Les 41, deel 2 VERDELEN



Vince krijgt er 9.

Jimmy krijgt er ook 9.



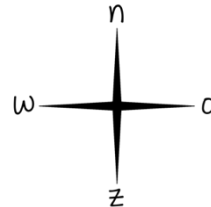
Stijn krijgt er 6.

Luuk krijgt er ook 6.

Gina krijgt er ook 6.

Robbie krijgt er ook 6.

Les 42 PLATTEGROND EN WINDROOS



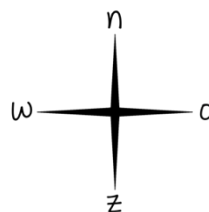
- 1 westen
- 2 oosten
- 3 noorden

Les 42, deel 2 PLATTEGROND EN WINDROOS



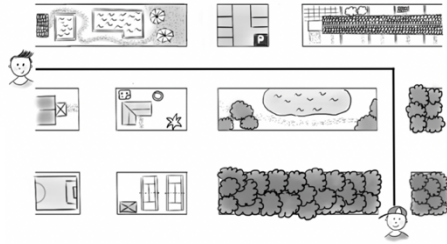
zuid - west - zuid - west – zuid

Les 42, deel 3 PLATTEGROND EN WINDROOS





oost - oost - oost- zuid - zuid



Les 43 INHOUD EN GEWICHT



1 kg 20 kg 2 kg 130 kg



aantal flessen	1	2	3	4
aantal glazen	4	8	12	16

Les 44 TIENTALLEN SPLITSSEN



10 en 10

30 en 30

40 en 40

20 en 20



15 en 15

25 en 25

45 en 45

35 en 35



13 en 13

21 en 21

32 en 32

44 en 44

Les 45.1 HANDIG REKENEN - 3 GEHEIME TRUCJES



$7 + 2 = 9$

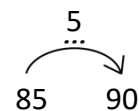
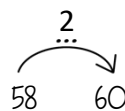
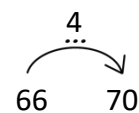
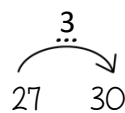
$18 + 5 = 23$

$15 + 3 = 18$

$36 + 3 = 39$

$19 + 6 = 25$

$49 + 4 = 53$



1 $27 + 6 = 33$

$2 \quad 48 + 16 = 64$

$3 \quad 28 + 9 = 37$

Les 45.2 HANDIG REKENEN - 3 GEHEIME TRUCJES



$80 - 29 =$

$80 - 30 = 50 \quad \dots \quad 50 + 1 = 51$

$70 - 39 =$

$70 - 40 = 30 \quad \dots \quad 30 + 1 = 31$

$86 - 19 =$

$86 - 20 = 56 \quad \dots \quad 56 + 1 = 57$

$94 - 39 =$

$94 - 40 = 54 \quad \dots \quad 54 + 1 = 55$

$100 - 49 =$

$100 - 50 = 50 \quad \dots \quad 50 + 1 = 51$



$40 - 30 = 10$

$60 - 40 = 20$

$90 - 70 = 20$

$80 - 60 = 20$



$6 + 3 = 9$

$2 + 16 = 18$

$6 + 3 = 9$

$55 + 7 = 62$

$6 + 3 = 9$

$31 + 5 = 36$



$1 \quad \text{toveren met nullen: } 50 - 20 = 30$

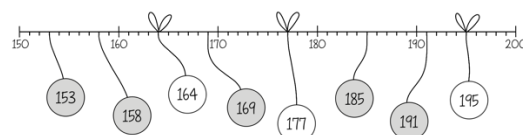
$2 \quad \text{min in plus veranderen: } 12 - 7 = 5$

$3 \quad \text{omvormen: } 100 - 59 = 41$

Les 46 GETALLENLIJN T/M 200



$191 - 192 - 193 - 194 - 195 - 196 - 197 - 198 - 199 - 200$



$102 - 114 - 130 - 131 - 144 - 160 - 169 - 174 - 182 - 200$



$90 - 100 - 110 - 120 - 130 - 140 - 150 - 160 - 170 - 180 - 190$

$82 - 92 - 102 - 112 - 122 - 132 - 142 - 152 - 162 - 172 - 182$

Les 46, deel 2 GETALLENLIJN T/M 200



168 krentenbollen



80 knikkers

Les 47 VERDELEN MET REST



9 knikkers worden over 2 kinderen verdeeld.

Ieder kind krijgt er 4 en er blijft 1 knikker over.

4 rest 1



18 knikkers worden over 4 kinderen verdeeld.

Ieder kind krijgt er 4 en er blijven 2 knikkers over.

$18 : 4 = 4 \text{ rest } 2$

Les 48 VERHAALTJESSOMMEN E4



- 1 31 jaar
- 2 5
- 3 11:00 uur
- 4 52 euro
- 5 16

Les 48, deel 2 VERHAALSOMMEN E4



- 1 30 cm
- 2 half 6
- 3 1 - 6 - 11 - 16
- 4 21 dagen
- 5 70 c

Les 49 TANGRAM



Zelf controleren

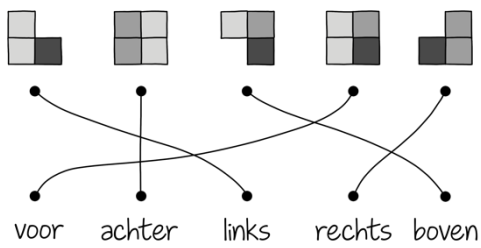
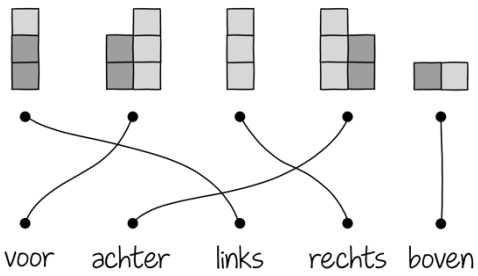


Zelf controleren



Zelf controleren

Les 50 ZIJAANZICHTEN



Les 51 PLATTEGRONDEN MET HOOGTEGETALLEN

